
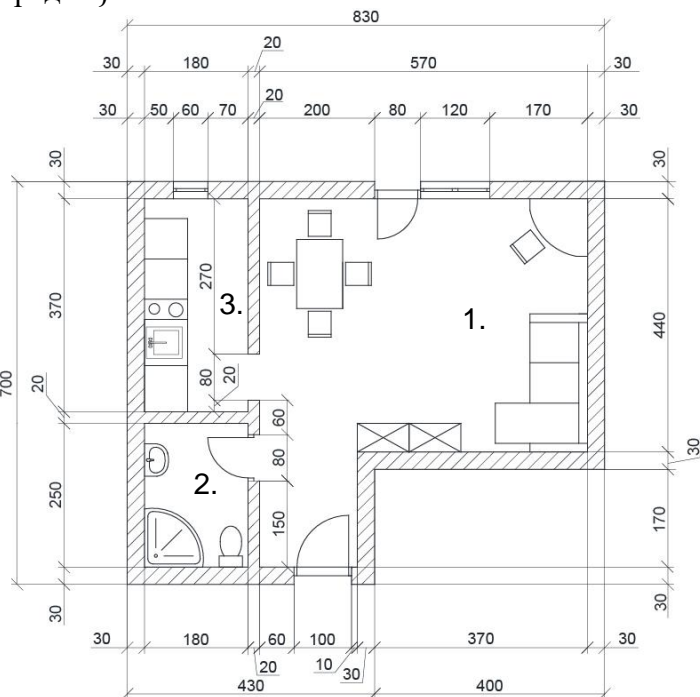


6.	<p>На тражени начин одговори на питање. Поређај грађевинску документацију према редоследу по коме се израђује уписујући бројеве од 1 до 4.</p> <p>___ идејни пројекат ___ пројекат за извођење ___ пројекат за грађевинску дозволу ___ идејно решење</p>	2
7.	<p>Нацртај пуну опеку у перспективи са две тачке недогледа.</p> <p>Тачка недогледа ↓</p> <p>Тачка недогледа ↓</p> 	3
8.	<p>Прочитај тражене податке са техничког цртежа и одговоре упиши на за то предвиђено место:</p>  <p>а) Колика је површина просторије број 3 изражена _____ m x _____ m = _____ m² б) Наведи све делове опреме који се налазе у просторији број 2.</p> <p>_____</p>	4
9.	<p>Заокружи слово испред тачног одговора. Млевењем, мешањем и печењем глине и кречњака добија се:</p> <p>а) креч; б) гипс; в) цемент.</p>	2

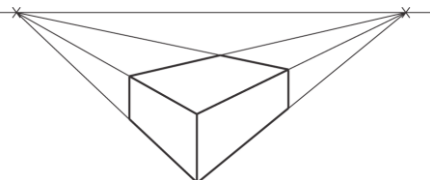
17.	<p>Заокружи слово испред тачног одговора Зграда П+3+Пк има:</p> <p>а) пет етажа, б) четири етаже, в) три етаже.</p>	2
18.	<p>Допуни реченицу: Рециклажом у пољопривредној производњи може се допринети уштеди _____ и очувању _____.</p>	3
19.	<p>На линијама испод фотографије упиши назив прикључних машине.</p> <div style="text-align: center;">  </div> <p>а) _____; б) _____; в) _____.</p>	3
20.	<p>Заокружи слово испред тачног одговора. Један пољопривредник је испланирао да на површини од 5 хектара засади хибрид кукуруза кратке вегетације. За садњу је намеравао да употреби 8 редну сејалицу Након сто дана кукуруз би био спреман за брање. Коју машину би пољопривредник требао да припреми како би кукуруз на време био обран?</p> <div style="display: flex; justify-content: space-around; align-items: center;"> <div style="text-align: center;">  <p>а)</p> </div> <div style="text-align: center;">  <p>б)</p> </div> </div>	1

Прегледао:

_____;

Комисија:

1. _____; 2. _____; 3. _____;

Кључ за 6. разред 2023. - 2024. године републичко такмичење		
1.	Т, Н, Н сваки тачан одговор један бод	3
2.	водоводна инсталација	3
3.	руралном насељу	3
4.	а) висући мост; б) моста са косим подупирачима; в) лучни мост. сваки тачан одговор један бод	3
5.	а)	2
6.	2, 4, 3, 1 признаје се само тачан редослед	2
7.	 Признаје се само исправно нацртан цртеж у перспективи са две тачке недогледа	3
8.	а) $1,8\text{m} \times 3,7\text{m} = 6,66 \text{ m}^2$ б) туш када, лавабо, тоалет (WC) шоља	4
9.	в) цемент	2
10.	Понуђене материјале за облагање подова разврстај на топле и хладне облоге. топле облоге: бродски под, ламинат, паркет, линолеум хладне облоге: камен, керамичке плочице сваки тачан одговор 0,5 бода	3
11.	б) шупљи блок – монта	2
12.	а) масивни систем градње;	2
13.	југоисток	3
14.	100 m	2
15.	в, а, б, г признаје се само тачан редослед	2
16.	а)	2
17.	а)	2
18.	природних ресурса , животне средине сваки тачан одговор 1,5 бодова	3
19.	тробраздни плуг признати и само плуг, тањирача, сејалица сваки тачан одговор 1 бод	3
20.	а)	1