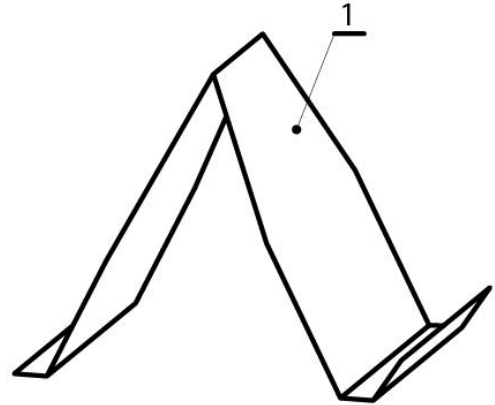
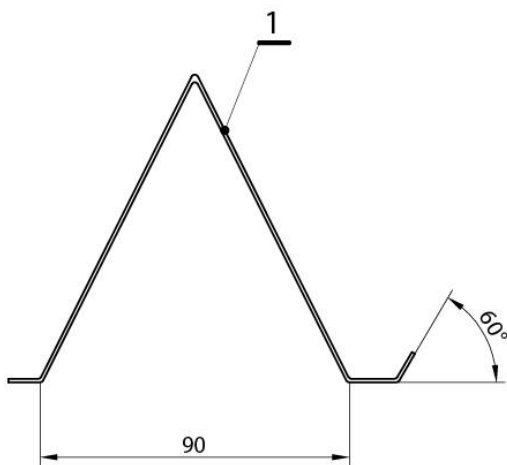
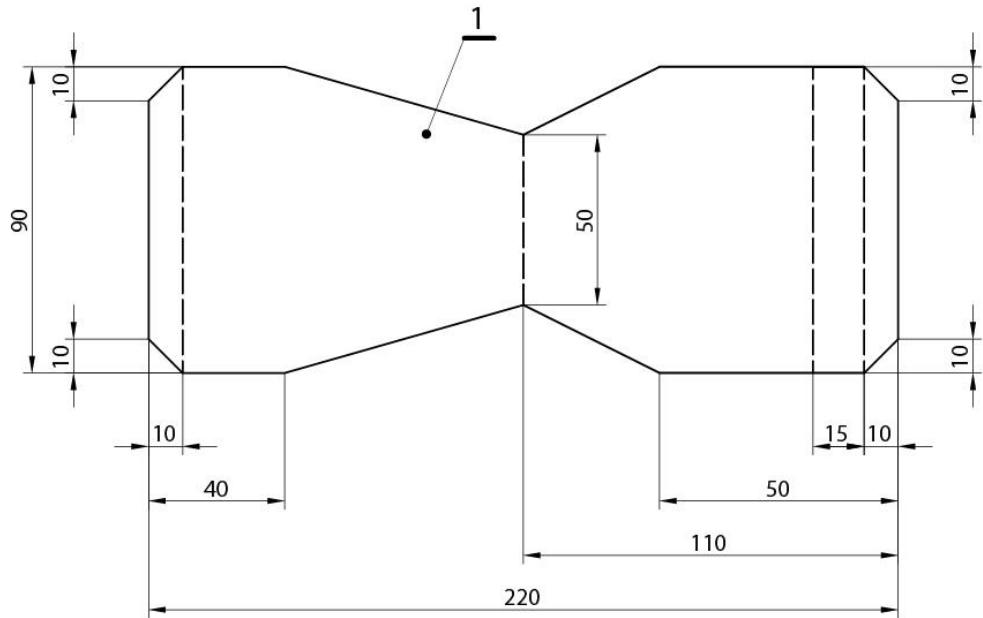


ТЕХНИКА И ТЕХНОЛОГИЈА - ОПШТИНСКО ТАКМИЧЕЊЕ 2024. године
7. разред – практичан рад по задатку

Задатак:

1. На материјалу, алуминијумски лим, пренети мере са техничког цртежа у размери 1:1;
2. Исећи лим према датим мерама и цртежу;
3. Оборити све оштре ивице;
4. Савити исечени лим у облик предмета према датом цртежу.

СРЕЋНО!



1	СТАЛАК	1	АЛУМИНИЈУМСКИ ЛИМ 0,5 mm
ПОЗ	НАЗИВ ДЕТАЉА	КОМ	МАТЕРИЈАЛ
РАЗМЕРА :	НАЗИВ ВЕЖБЕ :	БРОЈ ЦРТЕЖА: 1	
1 : 2	СТАЛАК ЗА МОБИЛНИ ТЕЛЕФОН		