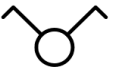




6.	Допуни реченицу како би израз био тачан. _____ је уређај који се уграђује на моторним возилима и има задатак да произведе електричну енергију потребну да се допуни акумулаторска батерија.	3
7.	На тражени начин одговори на питање Повежи називе физичких величина са њиховом мерном јединицом са десне стране уписујући слово на линији. а) јачина електричне струје _____ V б) снага _____ A в) електрични напон	2
8.	Заокружи слово испред тачног одговора. Шта у преводу значи назив аустралијске групе AC-DC? а) једносмерна струја - наизменична струја б) наизменична струја - једносмерна струја	2
9.	Допуни реченицу како би израз био тачан. Глобални позициони систем (енгл. GPS) популарно назван навигација састоји се од 24 сателита који круже у Земљиној орбити. Да би одредили тачну локацију паметеног уређаја (нпр. мобилни телефон) потребно је најмање _____ сателита за утврђивање локација.	3
10.	На тражени начин одговори на питање. На линији испод слика упиши о ком електричном уређају на моторном возилу се ради.  а) _____ б) _____ в) _____	3
11.	Заокружи слово испред тачног одговора. Старији модели телевизора користили су : а) LCD екране б) OLED екране в) CRT екране	2
12.	Допуни реченицу како би израз био тачан. Телевизија представља пренос _____ путем електричних сигнала.	3
13.	На тражени начин одговори на питање. Повежи одговарајуће појмове са скраћеницама које им одговарају, уписивајући слово на за то предвиђено место. а) радна меморија _____ CPU б) тврди диск _____ RAM в) процесор _____ HDD	3

14.	<p>Заокружи слово испред тачног одговора. На слици се налази симбол:</p>  <p>а) једнополни прекидач; б) серијски прекидач; в) наизменични прекидач.</p>	2	
15.	<p>Допуни реченицу како би израз био тачан Подаци између мобилног телефона и базне станице се преносе путем _____.</p>	3	
16.	<p>На линији испод упиши одговор. Хибридна возила су врста возила која комбинују две врсте мотора и то: _____ и _____.</p>	3	
17.	<p>Заокружи слово испред тачног одговора. Светлост показивача правца кретања на моторним возилима морају бити:</p> <p>а) беле боје; б) црвене боје; в) жуте боје.</p>	2	
18.	<p>Заокружи слово испред тачног одговора. Када се електрични тротинет креће тада долази до трансформације једног облика енергије у други и то:</p> <p>а) електричне у механичку енергију; б) механичке у електричну енергију; в) електричне у електричну енергију.</p>	2	
19.	<p>Заокружи слово испред тачног одговора. Ради лакшег преноса сигнала, данашњи мобилни телефони раде на принципу</p> <p>а) мембранског система б) хелијског система в) бежичног система</p>	2	
20.	<p>На тражени начин одговори на питање. Испод слика елемената кућне инсталације нацртај њихове симболе у двополној шеми.</p>		3
			

Прегледао:

_____;

Комисија:

1. _____; 2. _____; 3. _____;