




1. Пешак који је, у ситуацији на слици, започео прелазак преко коловоза:
  - а) дужан је да се врати на тротоар и пропусти оба аутомобила .....
  - б) дужан је да стане и пропусти црвени путнички аутомобил .....  3
  - ц) има првенство у односу на оба аутомобила .....
2. У ситуацији на слици црвени путнички аутомобил претицање врши:
  - а) непрописно .....
  - б) прописно .....  3
  - ц) прописно, само ако звучним сигналом упозори пешака .




3. Возач мотоцикла у ситуацији на слици, сме обилазити пешачко острво:
  - а) само са леве стране .....
  - б) само са десне стране .....  3
  - ц) било са леве било са десне стране .....



4. Закопчану хомологовану заштитну кацигу на глави морају носити:
  - а) само возач и путник мотоцикла .....
  - б) само возач мопеда и мотоцикла .....  3
  - ц) возач и путник мотоцикла, мопеда, трицикла и четвороцикла .....
5. У ситуацији на слици возачи мопеда крећу се:
  - а) прописно .....
  - б) непрописно .....  3
  - ц) непрописно, јер су на путу на коме је њихово кретање забрањено .....
6. Мопед је моторно возило на два точка чија највећа конструктивна брзна, без обзира на начин преноса, не прелази:
  - а) 45 км/х .....
  - б) 50 км/х .....  3
  - ц) 60 км/х .....

7. За вођњу бицикла, где не постоји посебна стаза, односно трака, бициклиста сме да користи коловоз у ширини од највише:
  - а) један метар од десне ивице коловоза .....
  - б) пола метра од десне ивице коловоза .....  3
  - ц) један и по метар од десне ивице коловоза .....




8. Мотоцикл који се кретао аутопутем уједначеном брзином за 2 сата је прешао 250км. Возач овог мотоцикла је:

- a) возио брзином већом од дозвољене .....    ③  
 б) возио дозвољеном брзином .....     
 ц) возио путем на којем је кретање мотоцикла забрањено .....




9. У ситуацији на слици возач плавог аутомобила:  
 а) има првенство проласка кроз раскрсницу .....    ③  
 б) дужан је да пропусти возило које му долази са десне стране и онда прође раскрсницу .....     
 ц) тренутно нема право проласка кроз раскрсницу .....

10. У случају да светлосна сигнализација одступа од правила саобраћаја, односно постављеног саобраћаног знака возач је дужан да поступи у складу са:  
 а) правилом саобраћаја .....    ③  
 б) светлосном сигнализацијом .....     
 ц) саобраћајним знаком .....




11. Бициклисте који на раскрсници жели да скрене улево, прописно је престојан ако заузме положај, обележен бројем:  
 а) 1 .....    ③  
 б) 2 .....     
 ц) 3 .....

12. Кратко светло на бициклу мора бити изведено и подешено тако да осветљени део равног пута:  
 а) није дужи од 70m ни краћи од 30m .....    ③  
 б) није дужи од 50m ни краћи од 10m .....     
 ц) није дужи од 35m ни краћи од 5m .....



13. Редослед проласка возила кроз раскрсницу је:  
 а) 1, 2, 3 .....    ③  
 б) 3, 2, 1 .....     
 ц) 1, 3, 2 .....

14. У ситуацији на слици учесници у саобраћају су дужни да поступе по:  
 а) саобраћајним знаковима .....    ③  
 б) ознакама на коловозу .....     
 ц) правилима саобраћаја .....



15. Возачу сивог путничког аутомобила претицање, у ситуацији на слици је:  
 а) забрањено саобраћајним знаком .....    ③  
 б) дозвољено ознакама на коловозу .....     
 ц) забрањено ознакама на коловозу .....

16. Највећа дозвољена брзина на путу који видимо на слици је:  
 а) 100км/ч .....    ③  
 б) 80км/ч .....     
 ц) 50км/ч .....




17. У ситуацији на слици, када је уређај за затварање саобраћаја почео да се спушта и дају се звучни знаци који упозоравају на то, возач путничког аутомобила је дужан да:

- a) возило заустави пред уређајем за затварање саобраћаја .....
- b) повећа брзину кретање возила и пређе преко пруге пре него што се уређај за затварање саобраћаја спусти .....  (3)
- ц) кретање настави непромењеном брзином, јер, браници нису спуштени .....

18. Знак приближавања прелазу пута преко железничке пруге са две црте, се поставља на удаљености од:

- a) 120m од прелаза .....
- b) 160m од прелаза .....  (3)
- ц) 240m од прелаза .....

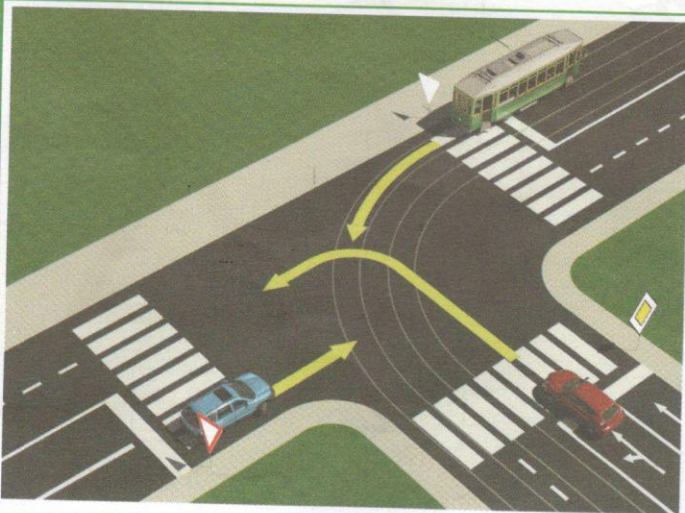


19. У ситуацији на слици црвени путнички аутомобил:

- a) дужан је да пропусти и возила под пратњом и пешаке .....
- b) дужан је да пропусти само возила под пратњом .....  (3)
- ц) има првенство пролаза у односу на возила под пратњом и пешаке .....

20. Пешаци који прелазе преко коловоза на обележеном пешачком прелазу, у ситуацији на слици:

- a) дужни су да пропусте сва возила у раскрсници .....
- b) дужни су да пропусте само возила под пратњом .....  (3)
- ц) имају првенство пролаза у односу на сва возила у раскрсници .....



21. У ситуацији на слици као други кроз раскрсницу ће проћи:

- a) плави аутомобил .....
- b) црвени аутомобил .....  (3)
- ц) шинско возило .....

22. Ако замислимо да у ситуацији на слици не постоје саобраћајни знакови, у том случају би као други кроз раскрсницу прошао:


- a) плави аутомобил .....
- b) црвени аутомобил .....  (3)
- ц) шинско возило .....



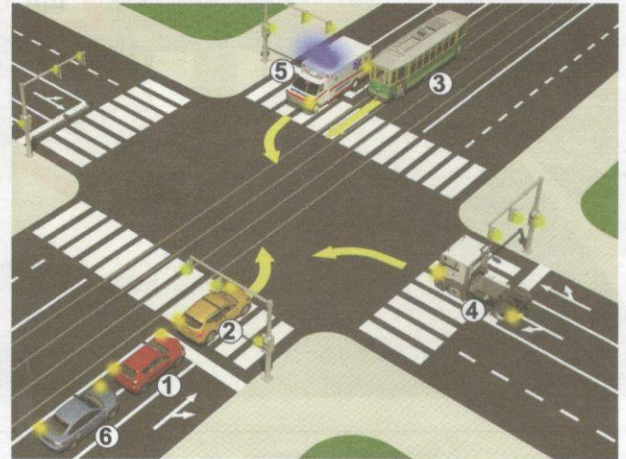
23. Када саобраћајцац који регулише саобраћај у раскрсници заузме положај као у ситуацији на слици, право проласка кроз раскрсницу имају возачи који му долазе:

- a) са бочних страна .....
- b) из правца у коме су окренута леђа полицијског службеника .....  (4)
- ц) из правца у коме су окренута прса полицијског службеника .....

24-25. У поља испод слике упиши бројеве који се налазе поред возила, по редоследу како пролазе раскрсницу



5



5

26. У квадратић испод сваког саобраћајног знака уписати редни број који је испред описа његовог значења:



2



2



2



2



2



2



2



2



2



2

1. бициклисти на путу
2. двосмеран саобраћај
3. завршетак пешачке зоне
4. забрана саобраћаја за бицикле
5. укрштање пута са железничком пругом са браницима или полубраницима
6. забрана полукружног окретања

7. забрана саобраћаја за мопеде
8. стаза резервисана за бициклисте и пешаке
9. обавезно полукружно окретање
10. укрштање путева исте важности
11. Андрејин крст
12. завршетак зоне успореног саобраћаја

**НАШИ ПРИЈАТЕЉИ!**

(Стартни број)

(Назив-разред/школа/екипа)

100-  **Негативних** =  **УКУПНО**  
Поена Поена



CIP - Каталогизација у публикацији  
Народна библиотека Србије, Београд

ISBN-978-86-80500-10-2  
COBISS.SR-ID